

図形はいくつ？


(ふみゆん)

がつ	にち	なまえ
----	----	-----



は
したの え のなかに、いろいろな かたちが入っています。
それぞれいくつはいっているか、かぞえてかずをかきましょう。

1




○ 3 こ

△ 2 こ

□ 5 こ

2




○ 10 こ

△ 4 こ

□ 1 こ

3



○ 12 こ

△ 12 こ

□ 10 こ

