

図形はいくつ？

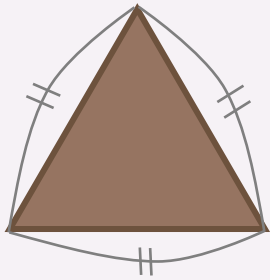
さんかくけい (三角形)

がつ	にち	なまえ
----	----	-----



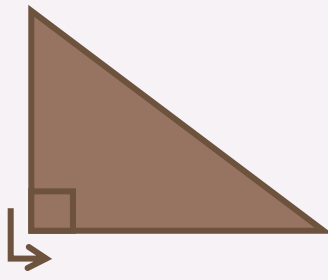
さんかくけい せいさんかくけい ちよっかくさんかくけい にとうへんさんかくけい
『三角形』には、**正三角形** **直角三角形** **二等辺三角形**があるよ。

せいさんかくけい
正三角形



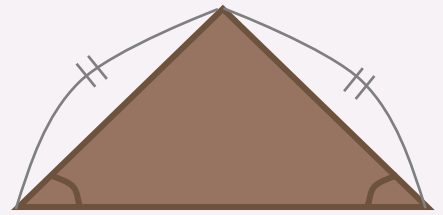
ながさがぜんぶおなじ！

ちよっかくさんかくけい
直角三角形



ひとつのかどがちよっかく！

にとうへんさんかくけい
二等辺三角形




ふたつのながさとかくどがおなじ！

さんかくけい

3しゅるいの 三角形が えのなかにかくれているよ！

それぞれいくつ あるか かぞえて、したにかずをかきましょう。



かたちをよ〜く
みてみよう！



こ



こ



こ

